


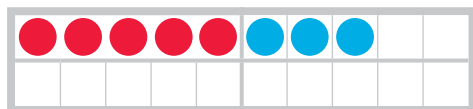
# Addieren und Subtrahieren



## 1 Lege und rechne. Immer vier Aufgaben.



5 3 8



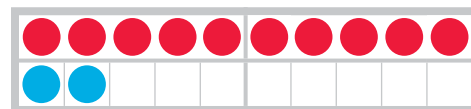
$5 + 3 = \underline{\quad}$

$8 - 3 = \underline{\quad}$

$3 + 5 = \underline{\quad}$

$8 - 5 = \underline{\quad}$

10 2 12



$10 + 2 = \underline{\quad}$

$12 - 2 = \underline{\quad}$

$2 + \underline{\quad} = \underline{\quad}$

$12 - \underline{\quad} = \underline{\quad}$

## 2



5 2 7

$5 + 2 = \underline{\quad}$

$7 - 2 = \underline{\quad}$

$2 + 5 = \underline{\quad}$

$7 - 5 = \underline{\quad}$

3 7 10

$3 + 7 = \underline{\quad}$

$10 - 7 = \underline{\quad}$

$7 + 3 = \underline{\quad}$

$10 - 3 = \underline{\quad}$

1 8 9

$1 + 8 = \underline{\quad}$

$9 - 8 = \underline{\quad}$

$\underline{\quad} + \underline{\quad} = \underline{\quad}$

$\underline{\quad} - \underline{\quad} = \underline{\quad}$

4 5 9

$\underline{\quad} + \underline{\quad} = \underline{\quad}$

$\underline{\quad} - \underline{\quad} = \underline{\quad}$

$\underline{\quad} + \underline{\quad} = \underline{\quad}$

$\underline{\quad} - \underline{\quad} = \underline{\quad}$

1 Plus- und Minusaufgaben am Feld sehen und rechnen. Umkehraufgaben wiederholen. 2 Aufgabe und Tauschaufgabe finden. Umkehraufgaben bilden und rechnen.

