

4 Ergänze bis 1000 am Rechenstrich.

$891 + \underline{\quad} = 1000$



$576 + \underline{\quad} = 1000$



4

5 Schreibe oder zeichne zwei verschiedene Rechenwege für die Aufgaben auf.

a)	7 5 8 - 4 9 6 =	7 5 8 - 4 9 6 =	

b)	5 4 6 - 4 2 9 =	5 4 6 - 4 2 9 =	

8

6 a) Beginne mit einer einfachen Aufgabe. Kreuze sie an.
 b) Zwei Ergebnisse in a) sind gleich. Erkläre.

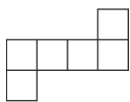
$462 - 204 = \underline{\quad}$

$462 - 200 = \underline{\quad}$

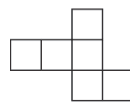
$462 - 199 = \underline{\quad}$

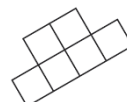
$461 - 199 = \underline{\quad}$

6

7 a) Aus welchen Sechslingen kann man einen Würfel falten? Kreuze an.








b) Markiere gegenüberliegende Seiten mit der gleichen Farbe.



c) Zeichne ein eigenes Würfelnetz.

9